


LỊCH SỬ & ĐỊA LÍ

BÀI 8: THIÊN NHIÊN VÙNG ĐỒNG BẰNG BẮC BỘ





**KHỞI
ĐỘNG**

A colorful illustration of a young girl with long brown hair, wearing a red dress with white trim, standing in a field of yellow flowers. She has her arms raised in a joyful gesture. The background shows rolling green hills under a light blue sky with a sun and a few butterflies. A large white speech bubble with a black outline is positioned to the right of the girl, containing text in red. Below the speech bubble is a white rectangular box with a dashed green border containing a list of items in black text.

Hãy mô tả những điều em quan sát được về thiên nhiên đồng bằng Bắc Bộ qua video?

- *Trong video có cây cối, dòng sông, nhà cửa, cánh đồng,..*
- *Dòng sông dài, uốn lượn, cánh đồng rộng nằm rải rác, cây cối um tùm,...*



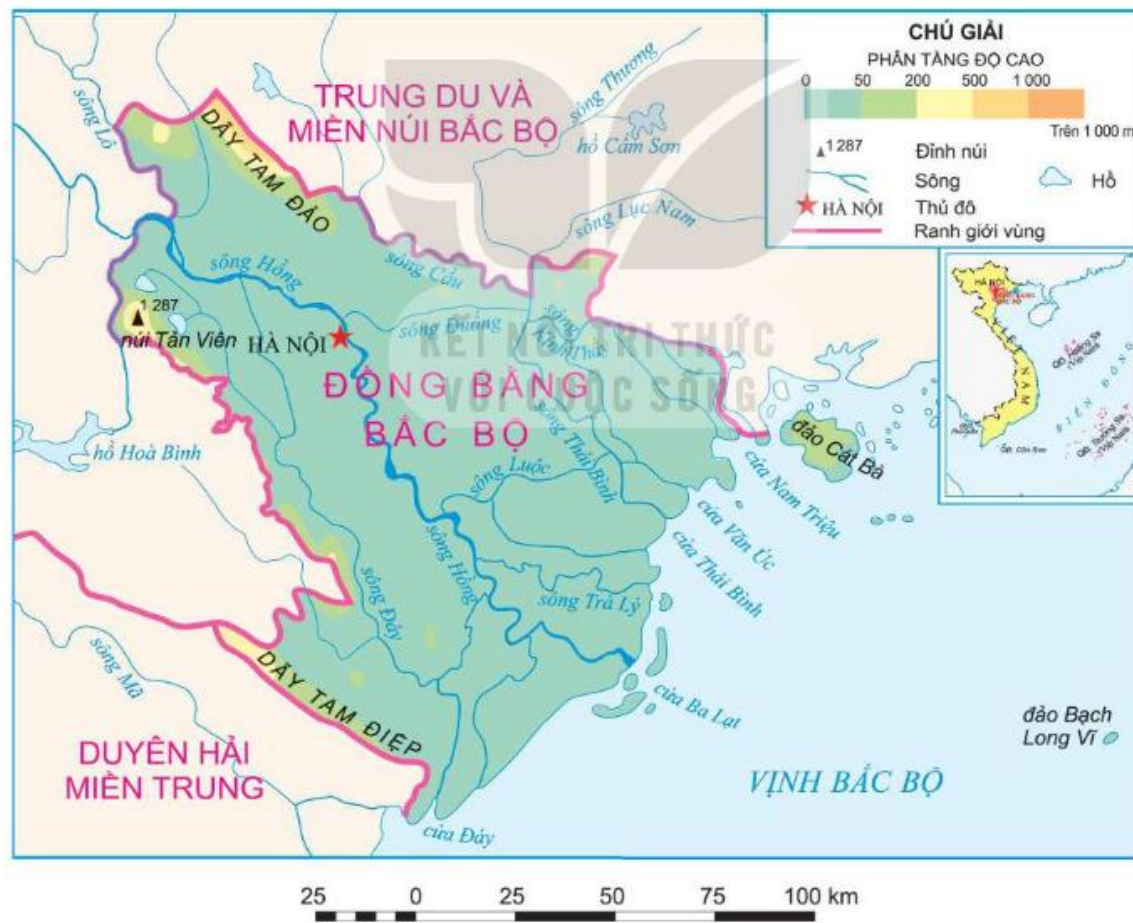
Khám phá



1. Tìm hiểu về vị trí địa lý

Em hãy quan sát hình 2 và cho biết:

- Xác định vị trí của vùng Đồng bằng Bắc Bộ trên lược đồ?
- Kể tên những vùng tiếp giáp với vùng Đồng bằng Bắc Bộ?



Ghi nhớ

Vùng Đồng bằng Bắc Bộ nằm ở phía bắc nước ta, có dạng hình tam giác, tiếp giáp với: vùng Trung du và miền núi Bắc Bộ, vùng Duyên hải miền Trung và vịnh Bắc Bộ.





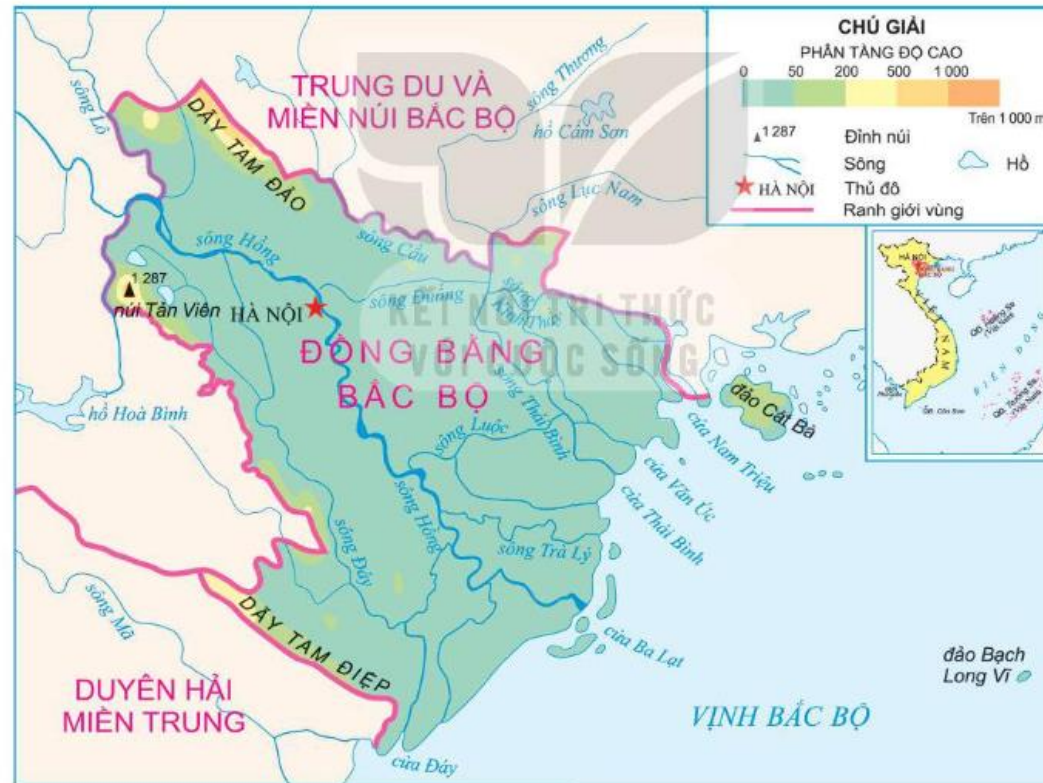
2. Đặc điểm về thiên nhiên

a. Địa hình





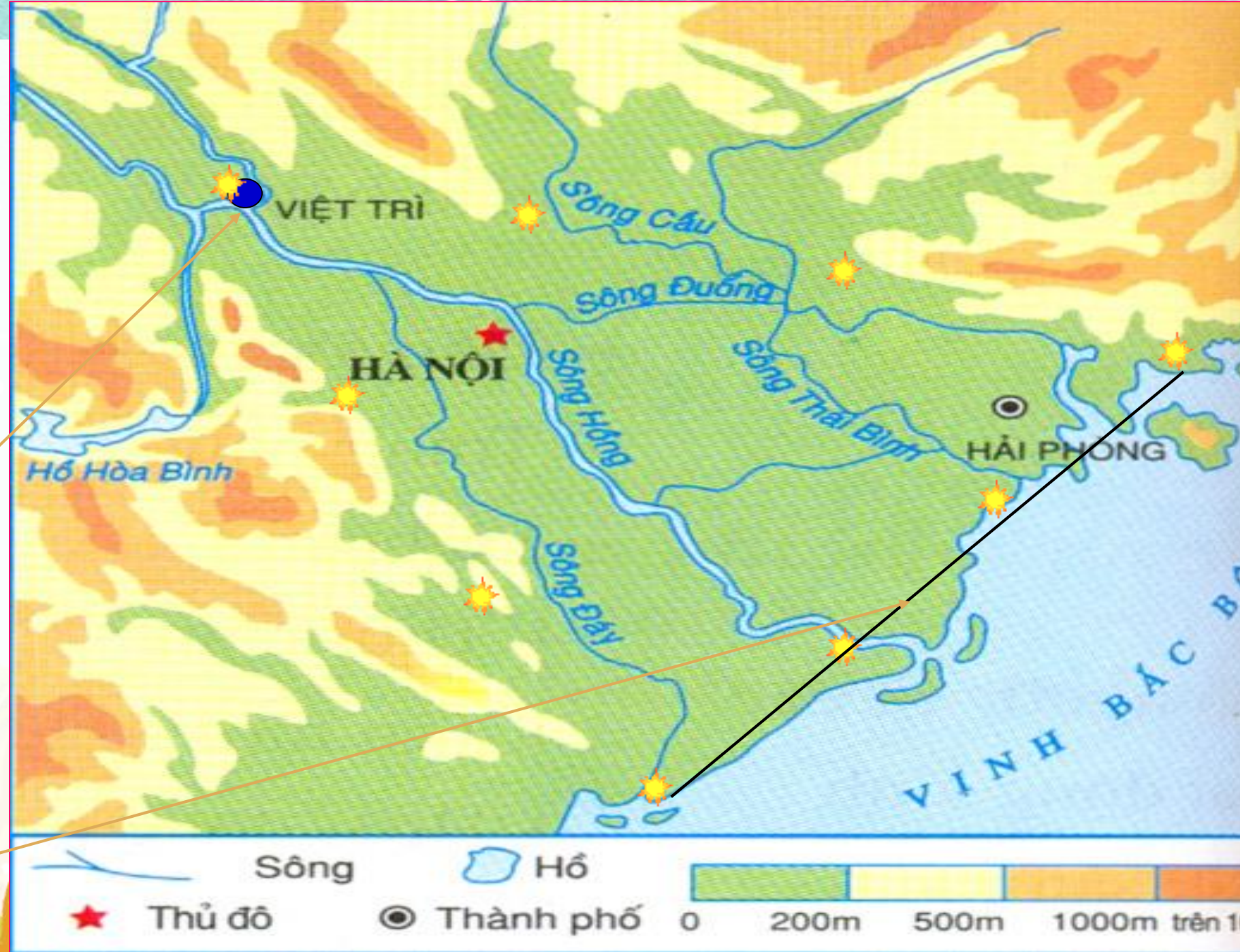
Địa hình vùng đồng bằng Bắc Bộ tương đối bằng phẳng, có độ cao trung bình trên 25m.



▲ Hình 2. Lược đồ địa hình vùng Đồng bằng Bắc Bộ

Đồng bằng
Bắc Bộ có
dạng hình
tam giác

với đỉnh ở
Việt Trì,
cạnh đáy là
đường bờ
biển





**UẬN
DỤNG**

Trò chơi

Rung chuông vàng



Chọn ý đúng

Chọn A, hoặc B, hoặc C, hoặc D



Câu 1

Đồng bằng Bắc Bộ có dạng hình gì?

A. Hình Tròn

B. Hình tam giác

C. Hình vuông

Hết giờ

10



Câu 2

Độ cao chủ yếu của vùng Đồng bằng Bắc Bộ khoảng bao nhiêu mét?

A. Trên 25 m

B. Dưới 25 m

C. Trên 30 m

Hết giờ

10



Câu 3

Địa hình đồng bằng Bắc Bộ có đặc điểm gì?

A. Có nhiều sông sâu.

B. Có nhiều vùng trũng.

C. Có bề mặt khá bằng phẳng.

Hết giờ

10





TẠM BIỆT VÀ
HẸN GẶP LẠI